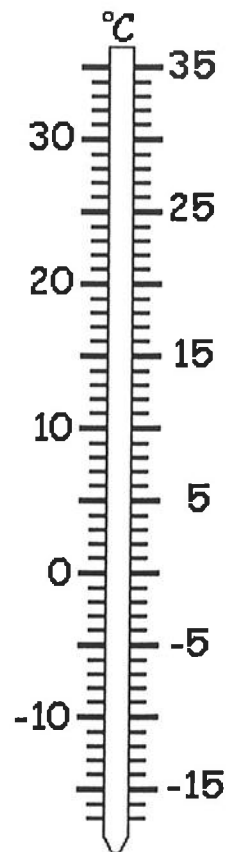
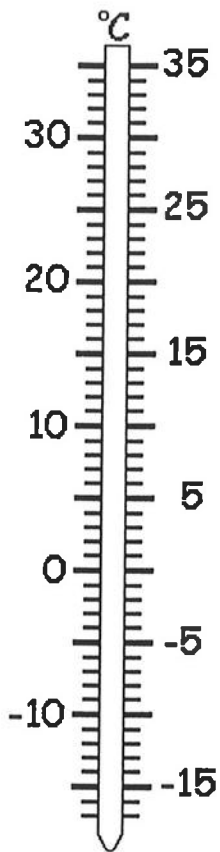
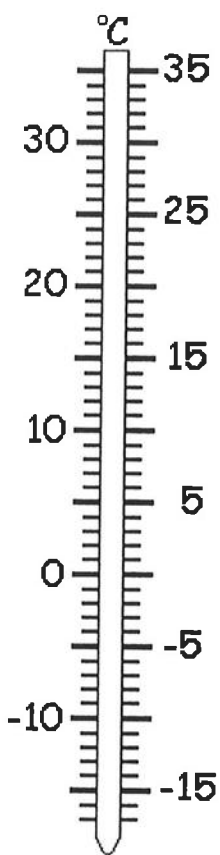


# Werkblad Thermometer 1

Kleur de temperatuur:



Bakje 1 is .....°C    Bakje 2 is .....°C    Bakje 3 is .....°C

Het koudste bakje is .....°C.

Het warmste bakje is .....°C.

## Werkblad Thermometer 2

Kleur de temperatuur tot de goede streep.  
Meet elk half uur weer.

100 °C														
90 °C														
80 °C														
70 °C														
60 °C														
50 °C														
40 °C														
30 °C														
20 °C														
10 °C														
0 °C														
	Na 0 uur	Na $\frac{1}{2}$ uur	Na 1 uur	Na $1\frac{1}{2}$ uur	Na 2 uur	Na $2\frac{1}{2}$ uur	Na 3 uur	Na $3\frac{1}{2}$ uur	Na 4 uur	Na $4\frac{1}{2}$ uur	Na 5 uur	Na $5\frac{1}{2}$ uur	Na 6 uur	Na $6\frac{1}{2}$ uur

Wat valt je op?

---

---

---